

Aluno (a) \_\_\_\_\_

Lista para aula de recuperação

### GEOGRAFIA – 1º Ano

01. O Brasil tem um grande potencial em sua rede hidrográfica, por apresentar rios caudalosos, grande volume d'água, predomínio de rios perenes, de foz em estuário, de regime pluvial de drenagem exorreica, de grande potencial hidráulico e outros. Observe o mapa das bacias hidrográficas brasileiras.



Fonte: MORAES, Paulo Roberto. Geografia geral e do Brasil. São Paulo: HARBRA, 2005. p. 128. (Adaptado)

A linha que vai de “A” a “B” passa sobre três bacias hidrográficas, que são

- a) Amazônica, do Tocantins-Araguaia, do Nordeste.
- b) do São Francisco, do Nordeste, do Leste.
- c) Platina, do São Francisco, do Sul-Sudeste.
- d) do Tocantins-Araguaia, do São Francisco, do Leste.
- e) do Norte, Platina, do Leste.

02. Sobre as bacias hidrográficas brasileiras, afirma-se que

- I – a Bacia Amazônica, de regime pluvial e nival, é a maior do Brasil.
- II – a característica climática semiárida inviabiliza a geração hidrelétrica na Bacia do São Francisco.
- III – a maior produção hidroelétrica brasileira é verificada na Bacia do Paraná.
- IV – a expansão da soja tem impactado os rios da Bacia do Paraguai.
- V – a maior ilha fluvial do mundo, a do Bananal, encontra-se no interior da Bacia do Rio Parnaíba.

Estão corretas apenas as afirmativas:

- a) I, II e III.
- b) I, II e V.
- c) I, III e IV.
- d) II, IV e V.
- e) III, IV e V.

03. Os rios constituem um elemento essencial para o ser humano, desde os primórdios da humanidade até os dias atuais. Além de sua importância natural, destaca-se também sua funcionalidade política, econômica e social.

Os rios são correntes de água doce que se formam a partir de uma precipitação (chuva ou neve) ou de fontes naturais.

Em uma bacia hidrográfica, é possível identificar diferentes elementos e características no percurso de um rio.

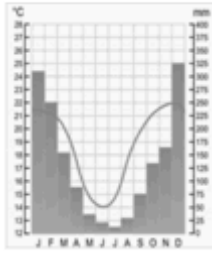


Com base nos dados acima e em seus conhecimentos, assinale a alternativa que apresenta a relação correta dos elementos e características identificados na figura.

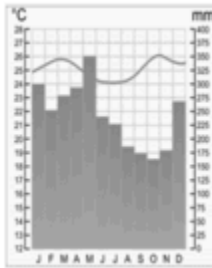
- a) (4) Nascente, (3) Afluente, (2) Meandro, (1) Foz em Delta, (5) Margem esquerda e (6) Margem direita.
- b) (6) Nascente, (2) Afluente, (4) Meandro, (1) Foz em Delta, (5) Margem esquerda e (3) Margem direita.
- c) (4) Nascente, (2) Afluente, (5) Meandro, (1) Foz em Delta, (6) Margem esquerda e (3) Margem direita.
- d) (6) Nascente, (3) Afluente, (2) Meandro, (4) Foz em Delta, (5) Margem esquerda e (1) Margem direita.
- e) (2) Nascente, (1) Afluente, (4) Meandro, (3) Foz em Delta, (6) Margem esquerda e (5) Margem direita.

04. Considerando-se os tipos climáticos encontrados no Brasil e seus respectivos climogramas, é correto afirmar que o clima tropical úmido (litorâneo) está representado em

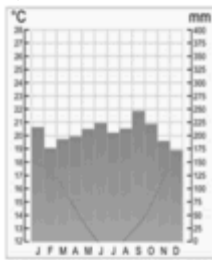
a)



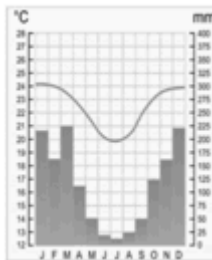
b)



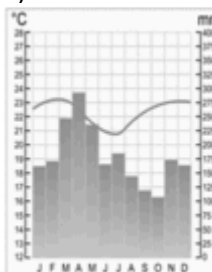
c)



d)



e)

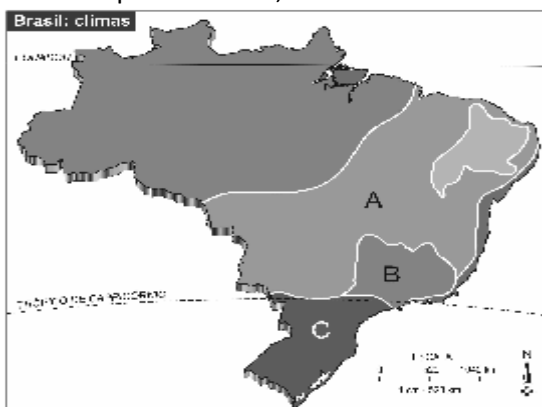


05. As chuvas que normalmente ocorrem nos períodos de verão e inverno, no vale do Paraíba, podem ser classificadas, respectivamente, como:

- a) chuvas orográficas e convectivas.
- b) chuvas convectivas e de convergência de massa.
- c) chuvas orográficas e frontais.
- d) chuvas convectivas e frontais.
- e) chuvas convectivas e orográficas.

06. Devido à grande extensão territorial, nosso país se diferencia de outros pela diversidade climática, pela posição geográfica, pela latitude, pela configuração do território e pelos sistemas atmosféricos.

Observe o mapa do Brasil abaixo e identifique os tipos de clima característicos das regiões indicadas pelas letras A, B e C.



MOREIRA, I. *Construindo o espaço do homem*. São Paulo: Ática, 2001. p. 200.)

Assinale a alternativa abaixo em que os climas listados correspondem, correta e respectivamente, às letras A, B e C, localizadas no mapa acima.

- a) tropical úmido, tropical semiárido, tropical de altitude
- b) equatorial, tropical, subtropical
- c) tropical semiúmido, tropical de altitude, subtropical
- d) tropical de altitude, tropical úmido, extratropical
- e) tropical semiárido, tropical semiúmido, tropical de altitude

07. Explique a dinâmica da DIT.

08. Apresente características da chamada “antiga ordem mundial” ou “ordem bipolar”.

09. Explique por que foi usado o termo “cortina de ferro”.

10. Apresente características do período pós Guerra Fria.

11. Caracterize o processo de globalização pela perspectiva econômica.

12. Caracterize o processo de globalização pela perspectiva sociocultural.